

Họ và tên:.....Lớp.....

Bài 1)

a) Số liền trước của 80 là:

A. 79

B. 81

C. 82

b) Số liền sau của số 65 là:

A. 66

B. 64

C. 63

Bài 2) Chủ nhật tuần này là ngày 13 tháng 11. Vậy chủ nhật tuần trước là ngày:

A. Ngày 20 tháng 11

B. Ngày 22 tháng 11

C. Ngày 6 tháng 11

D. ngày 7 tháng 11

Bài 3) Tính nhẩm:

$5 + 8 = \dots\dots$	$15 - 8 = \dots\dots$	$8 + 5 - 7 = \dots\dots$
$7 + 9 = \dots\dots$	$16 - 9 = \dots\dots$	$4 + 9 - 6 = \dots\dots$
$12 - 8 = \dots\dots$	$19 - 9 = \dots\dots$	$13 - 8 + 4 = \dots\dots$

Bài 4) Đặt tính rồi tính:

$75 - 39$

$83 - 25$

$8 + 75$

$100 - 23$

$100 - 37$

.....

.....

.....

.....

Bài 5) Tìm x:

Trường Tiểu học Trần Quốc Toản

$25 + x = 30$	$72 - x = 42$	$x - 23 = 67$
.....
.....
.....

Bài 6) Điền dấu >; <; =

$29 - 4$ $29 - 5$	$36 \text{ kg} + 7 \text{ kg}$ $51 \text{ kg} - 18 \text{ kg}$
$43 - 3$ $55 - 17$	$8 \text{ dm} + 25 \text{ dm}$ $21 \text{ dm} + 12 \text{ dm}$

Bài 7) Viết số thích hợp vào ô trống:

$28 - 7 < 2$ <input type="text"/>	5 <input type="text"/> $>$ <input type="text"/> $6 > 55$
-----------------------------------	--

Bài 8) Nhà Hà có 5 chục kg gạo tẻ và số gạo nếp ít hơn số gạo tẻ 16 kg. Hỏi nhà Hà có bao nhiêu ki - lô - gam gạo nếp?

Tóm tắt

Bài giải

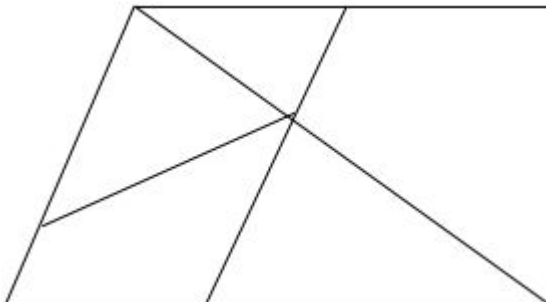
.....

.....

.....

.....

Bài 9) ?



Hình trên có:

.....hình tứ giác

.....hình tam giác

Họ và tên:.....Lớp.....

1. Tính nhẩm:

$$8 + 7 = \dots\dots\dots 14 - 8 = \dots\dots\dots 8 + 5 - 6 = \dots\dots\dots$$

$$9 + 8 = \dots\dots\dots 16 - 9 = \dots\dots\dots 5 + 9 - 7 = \dots\dots\dots$$

$$13 - 7 = \dots\dots\dots 18 - 9 = \dots\dots\dots 13 - 8 + 6 = \dots\dots\dots$$

2. Đặt tính rồi tính:

$$97 - 26$$

$$6 + 37$$

$$9 + 48$$

$$100 - 7$$

.....
.....
.....

3. Khoanh vào chữ đặt trước câu trả lời đúng:

Có 5kg táo và 5kg ổi, vậy:

- A. Số ki- lô- gam táo nhẹ hơn số ki – lô gam ổi.
- B. Số ki- lô- gam táo nặng hơn số ki – lô gam ổi.
- C. Số ki- lô- gam ổi nhẹ hơn số ki – lô gam táo.
- D. Số ki- lô- gam ổi và táo nặng bằng nhau.

4. a) Số liền sau của số 75 là:

A. 76

B. 74

C. 73

b) Số liền trước của số 90 là:

A. 89

B. 91

C. 92

5. Thứ bảy tuần này là ngày 19 tháng 10. Vậy thứ bảy tuần trước là ngày:

A. Ngày 12 tháng 10

B. Ngày 26 tháng 10

C. Ngày 6 tháng 10

D. ngày 13 tháng 10

6. Tìm x:

$34 + x = 50$	$65 - x = 38 + 9$

7. Điền dấu >; <; =

$38 - 5 \dots\dots\dots 39 - 6$

$39 \text{ kg} + 8 \text{ kg} \dots\dots\dots 61 \text{ kg} - 18 \text{ kg}$

$43 - 7 \dots\dots\dots 65 - 17$

$7 \text{ dm} + 29 \text{ dm} \dots\dots\dots 24 \text{ dm} + 12 \text{ dm}$

8. Một cửa hàng buổi sáng bán được 83l dầu, buổi chiều bán được ít hơn buổi sáng 27l dầu. Hỏi buổi chiều cửa hàng đó bán được bao nhiêu lít dầu?

Tóm tắt

Bài giải

.....

.....

.....

.....

.....

9. Viết số thích hợp vào ô trống:

a) $37 - 9 < 2$

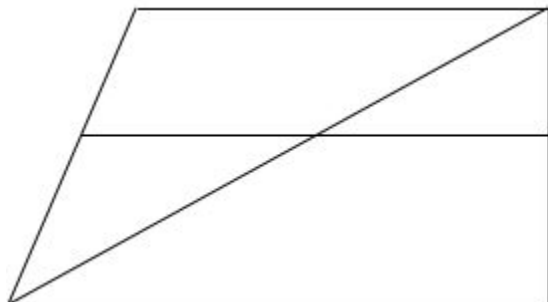
b) 6

$>$

$4 > 63$

10. ?

Hình bên có:



.....hình tứ giác

Họ và tên:.....Lớp.....

1. Tính nhẩm:

$12 - 9 = \dots\dots$

$9 + 8 = \dots\dots$

$100 \text{ kg} - 40 \text{ kg} = \dots\dots$

$11 - 6 = \dots\dots$

$14 - 7 = \dots\dots$

$10 \text{ cm} + 60 \text{ cm} = \dots\dots$

2. Đặt tính rồi tính:

$43 + 17$

$8 + 65$

$100 - 46$

$100 - 21$

.....
.....
.....
.....

3. Khoanh vào kết quả đúng:

a) Số liền trước của 90 là:

A. 79

B. 89

C. 91

b) Số liền sau của số 68 là:

A. 67

B. 69

C. 70

4. Tìm x:

a) $25 + x = 43$

b) $80 - x = 73$

c) $x - 18 = 62$

.....
.....
.....

5. Điền dấu >, <, =

$19 + 32 \dots\dots 41 + 19$

$42 + 28 \dots\dots 70$

$65 - 16 \dots\dots 45 - 6$

$54 - 26 \dots\dots 26$

6. Thứ Sáu tuần này là ngày 20 tháng 12. Vậy Thứ Sáu tuần trước là ngày:

- A. Ngày 14 tháng 12
- B. Ngày 15 tháng 12
- C. Ngày 13 tháng 12
- D. ngày 12 tháng 12

7. Viết số thích hợp vào ô trống:

$42 - 5 < 3 \square$	$7 \square > \square > 69$
----------------------	----------------------------

8. Một cửa hàng buổi sáng bán được 58kg gạo, buổi chiều bán được nhiều hơn buổi sáng 15kg gạo. Hỏi buổi chiều cửa hàng bán được bao nhiêu ki – lô – gam gạo?

Tóm tắt

Bài giải

.....

.....

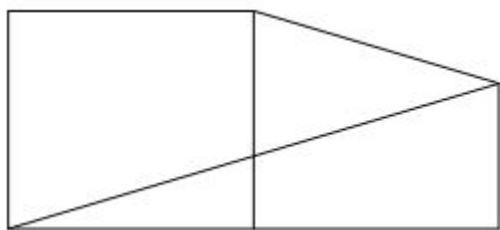
.....

.....

.....

9. Số?

Hình bên có:



.....hình tứ giác.

.....hình tam giác.

Họ và tên:.....Lớp.....

1. Tính nhẩm:

$8 + 9 = \dots\dots$

$40 + 60 = \dots\dots$

$6 + 7 - 6 = \dots\dots$

$17 - 8 = \dots\dots$

$16 - 7 = \dots\dots$

$13 - 4 + 5 = \dots\dots$

2. Đặt tính rồi tính:

$31 - 7$

$100 - 34$

$58 + 27$

$34 + 48$

.....
.....
.....
.....

3. Khoanh vào chữ đặt trước câu trả lời đúng:

Anh năm nay 13 tuổi, 5 năm trước anh bao nhiêu tuổi?

A. 18 tuổi

B. 19 tuổi

C. 8 tuổi

D. 9 tuổi

4. Viết tiếp vào chỗ chấm cho thích hợp:

Hôm nay là thứ ba ngày 13 tháng 12, thứ năm tuần sau là ngày bao nhiêu?

A. ngày 22

B. ngày 19

C. ngày 20

D. ngày 21

5. Tìm x:

$38 + x = 81$

$x - 39 = 48 + 12$

.....
.....
.....
.....

6. Điền dấu thích hợp: >; <; =

$38 + 12 \dots\dots 28 + 12$

$18\text{kg} - 9\text{kg} \dots\dots 20\text{kg} - 10\text{kg}$

$37 - 28 \dots\dots 20 - 17$

$9\text{dm} \dots\dots 58\text{cm} + 32\text{cm}$

7. Mảnh vải xanh dài 39cm, mảnh vải xanh dài hơn mảnh vải đỏ 12cm. Hỏi mảnh vải đỏ dài bao nhiêu xăng – ti – mét?

Tóm tắt

Bài giải

.....

.....

.....

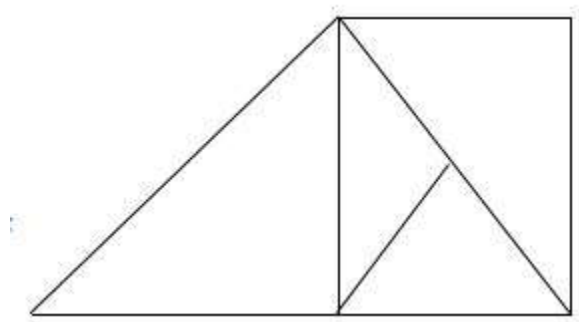
.....

8. Viết số thích hợp vào ô trống:

a) $46 - 25 > 2 \square$

b) $27 + 3 < \square < 63 - 31$

9. ?



Hình trên có:

..... hình tứ giác

..... hình tam giác

Họ và tên:.....Lớp.....

1. Tính nhẩm:

$7 + 9 = \dots\dots\dots$

$50\text{cm} + 50\text{cm} = \dots\dots\dots$

$9 + 9 - 8 = \dots\dots\dots$

$17 - 8 = \dots\dots\dots$

$45\text{kg} - 4\text{kg} = \dots\dots\dots$

$13 - 8 + 6 = \dots\dots\dots$

2. Đặt tính rồi tính:

$91 - 8$

$41 - 13$

$100 - 9$

$43 + 57$

.....

.....

.....

.....

3. Khoanh vào chữ đặt trước câu trả lời đúng:

Có 3kg giấy và 3kg cam, vậy:

- A. Số ki- lô- gam giấy nhẹ hơn số ki – lô gam cam.
- B. Số ki- lô- gam giấy nặng hơn số ki – lô gam cam.
- C. Số ki- lô- gam cam nhẹ hơn số ki – lô gam giấy.
- D. Số ki- lô- gam cam và giấy nặng bằng nhau.

4. Khoanh vào chữ đặt trước câu trả lời đúng:

a) 100 là số liền sau của số:

- A. 99
- B. 90
- C. 89

b) Số liền trước của 39 là:

- A. 40
- B. 38
- C. 28

5. Viết tiếp vào chỗ chấm cho thích hợp:

Một tuần khi chưa nghỉ dịch em đến trườngngày.

Đó là các ngày.....

6. Tìm x:

a, $67 + x = 80$

b, $x - 38 = 17$

.....
.....
.....

7. Điền các dấu > ; < ; = thích hợp:

a, $27 + 7 \dots\dots 27 + 9$

b, $461 - 181 \dots\dots 191 + 181$

c, $15 + 56 \dots\dots 95 - 24$

d, $81\text{cm} \dots\dots 2\text{dm} + 6\text{dm}$

8. Mẹ hái được 67 quả cam, chị hái được ít hơn mẹ 18 quả cam. Hỏi chị hái được bao nhiêu quả cam?

Tóm tắt

Bài giải

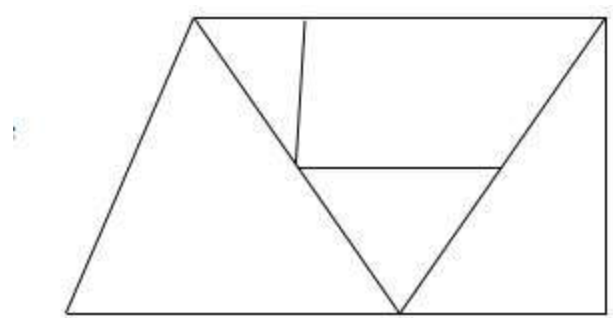
.....
.....
.....
.....

9. Viết chữ số thích hợp vào chỗ chấm:

a) $35 + \dots\dots = 47$

b) $44 - \dots\dots = 22$

10. Hình bên có:



.....hình tứ giác

.....hình tam giác